



Ties-Mika (1)

Ties maakt gebruik van zijn vrijpion




Ties-Mika (2)

Hoe kan Mika de vrije e-pion stoppen?



Laurens-Victor(1)


Hoe heft Victor het best het schaak op: a) ...Kd7 b) ...Le7 c) ...De6



Laurens-Victor (2)


Wat doet wit aan de aangevallen loper:

- a) La6 b) La4 c) Lc4 d) c4




Daan-Felix (1)

Daan heeft een dubbele aanval. Kan Felix materiaal verlies voorkomen?



Wendy-Justin (1)


Moet Justin zijn ontwikkeling afmaken met 0-0 ?



Yichen-Bart (1)


Welke zet is het best:

- a) ...Pc6 b) ...Dc6 c) ...d5 d) ...h6




Wendy-Justin (2)

Justin kan zijn stuk terugwinnen




Daan-Felix (2)

Hoe staat dit eindspel? En hoe moet Felix zich verdedigen?




Yichen-Bart (2)

Yichen staat al een dame voor. Hoe wint hij het snelst?



Daan-Felix (3)

Staat de zwarte koning erg actief of juist onveilig? Wat moet Daan spelen?



Kritin-Elvira

Kritin heeft een dubbele aanval. Hoe redt Elvira haar paard?