



Tactiek




Bart-Mika (1)

Wat raad je Bart hier aan?




Laurens-Martijn (1)

Martijn heeft net Dc8-a6 gespeeld. Hoe wint Laurens zijn stuk terug?




Justin-Boaz (1)

Het witte paard op f3 staat gepend en aangevallen door de pion op e4. Moet wit dit paard verliezen?




Alexander-Kritin

Alexander wint een pion.




Bart-Mika (2)

Zwart heeft last van de witte loper op c4 en pion op e6. Daarom speelde Mika Kh8. Hoe had Mika dit probleem beter kunnen oplossen?




Laurens-Martijn (2)

Hoe kon Martijn optimaal gebruik maken van zijn beter ontwikkeling?




Bart-Mika (3)

Mika heeft de f-lijn gepakt en dreigt binnen te komen op f2. Op Da7 komt Tf5. Hoe maakt Bart een eind aan Mika's plannen?



Justin-Boaz (2)

Justin heeft hier een prachtige combinatie die heel moeilijk te vinden is. Het is een aaneenschakeling van een stap 4+ en twee stap 5 combinaties. Omdat het zo mooi is laat ik het hier zien: 1.Lxf6 gxf6 2.Pxd4! Lxd1 3.Pc6 (zie volgend diagram)



Justin-Boaz (2 vervolg)

Op iedere zet van de zwarte dame kan Justin de dame winnen. Het enige wat Boaz nog kan doen is zijn eigen loper in veiligheid brengen: 3...Lh5. Maar nu komt: 4.Pxd8 Txd8 5.Pxf6+ en Justin wint de zwarte loper op h5!