




Boaz – Alexander
Hoe kan Boaz materiaal verlies voorkomen?




Elvira – Muriëlle
Bedenk twee goede zetten voor Elvira om haar aanval voort te zetten.




Elvira – Muriëlle
Verliest Elvira haar toren?




Martijn – Mika
Wat is de beste zet voor Martijn?




Elvira – Muriëlle
Hoe kan Muriëlle nu winnen?



Boaz – Alexander
Boaz heeft in plaats van op f3 terug te slaan eerst d4-d5 gespeeld. Hoe kan Alexander hier het best van profiteren?




Elvira – Muriëlle
Hoe kan Muriëlle haar aanval het sterkst voort zetten?



Wouter - Justin
Welke zetten zijn goed?

- 3...Ld6
- 3...d6
- 3...Lb4+
- 3...exd4
- 3...Pf6
- 3...f6



Elvira – Muriëlle
Weer een stelling uit de zusterstrijd. Elvira heeft Pd5 gespeeld met vreselijke dreigingen. Wat zijn de dreigingen en wat moet Muriëlle nu doen? Hoe staat het daarna?

