



Strategie




Bart-Mika (1)

Wat is het plan van Mika?




Bart-Mika (2)

Mika heeft een hoop ruimte gewonnen op de damevleugel. Hoe moet zwart nu verder?




Bart-Mika (3)

De zwarte pion op e6 staat aangevallen. Wat moet Mika daar tegen doen en wie staat er beter?




Bart-Mika (4)

Bart heeft een paar mooie vrijpionnen, maar zijn koning staat erg bloot. Hoe kan Mika hier het best van profiteren?




Bart-Mika (5)

Bart aan zet. Wie staat beter in dit eindspel?




Laurens-Martijn

Laurens heeft een mooi pionnen centrum maar heeft nog niet gerokeerd terwijl Martijn al zijn stukken in het centrum heeft staan. Zou je 1...Pxe4 overwegen?




Daan-Wendy (1)

Daan heeft een pion geofferd en hiervoor dreigingen tegen b7 en f7 gekregen. Het is moeilijk om alles uit te rekenen. Wat zou je Wendy aanraden te spelen?



Daan-Wendy (2)

In een toreneindspel is het belangrijk dat de torens actief zijn. Wat moet Wendy hier spelen?



Leeg