



Strategie

Ronde2




Boaz – Alexander

Alexander rokeerde hier. Is g7-g5 hier een goede zet?




Elvira – Muriëlle

Moet Elvira ruilen op f6?




Elvira – Muriëlle

Elvira heeft geruild op f6. Hoe nu verder?



Boaz – Alexander


Hoe moet Alexander terug pakken op b6?



Marijn – Bart


Plaats de volgende zetten in volgorde van sterkte:

1. Te1
2. Dd2
3. Dxe6




Boaz – Alexander

Hoe kan Alexander zijn pionnenstructuur verbeteren?



Marijn – Bart


Bart heeft met c7-c5 de witte damevleugel aangevallen. Wat moet Marijn doen?



Laurens – Ties

De zet Tc7-c3+ leidt bij goed spel van beide partijen tot

- Winst voor zwart
- Remise
- Winst voor wit



Zelfde stelling, alleen met de

pion op g6 in plaats van g5. De zet Tc7-c3+ leidt bij goed spel van beide partijen tot

- Winst voor zwart
- Remise
- Winst voor wit